

23 / 1  
Geografi  
Masa:  
1 1/4 jam

**PEPERIKSAAN PERCUBAAN**  
**PENILAIAN MENENGAH RENDAH 2009**

---

---

**GEOGRAFI**

Kertas 1

Satu jam lima belas minit

---

---

**JANGAN BUKA KERTAS SOALAN INI SEHINGGA DI BERITAHU**

1. *Kertas soalan ini mengandungi **60** soalan.*
2. *Jawab **semua** soalan.*
3. *Jawab dengan menghitamkan ruang yang betul pada kertas jawapan*
4. *Hitamkan **satu** ruangan sahaja bagi setiap soalan.*
5. *Sekiranya anda hendak menukar jawapan, padamkan tanda yang telah dibuat. Kemudian hitamkan jawapan yang baru.*
6. *Anda dibenarkan menggunakan alat geometri.*

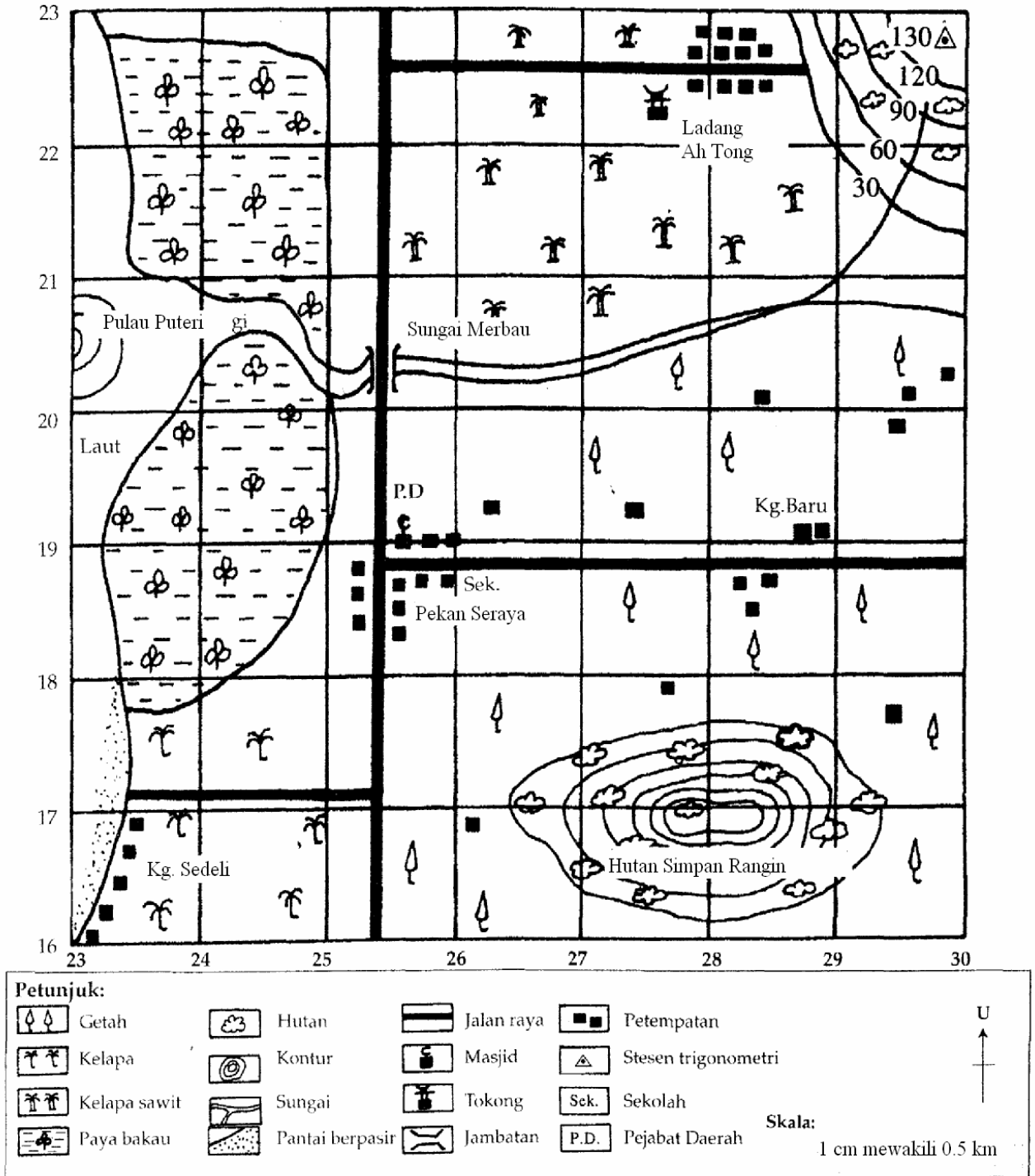
---

Kertas soalan ini mengandungi 21 halaman bercetak

@PKPSM Pahang

[Lihat sebelah]  
SULIT

Soalan 1 hingga soalan 6 berdasarkan peta topo di bawah.

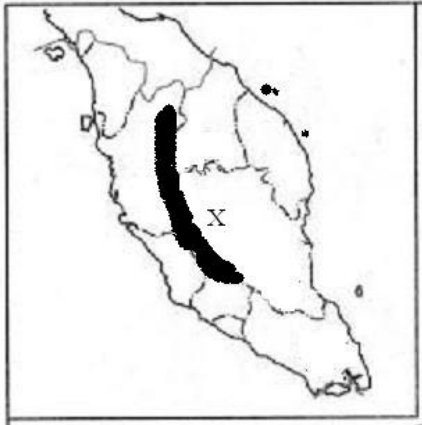




6. Antara berikut, pernyataan manakah benar tentang peta?  
 I Penduduk di Pekan Seraya beragama Islam  
 II Kelapa sawit ditanam secara ladang di bahagian utara peta  
 III Kegiatan pembalakan dijalankan di bahagian tenggara peta  
 IV Kebanyakan penduduk di Kg. Sedeli bekerja sebagai nelayan

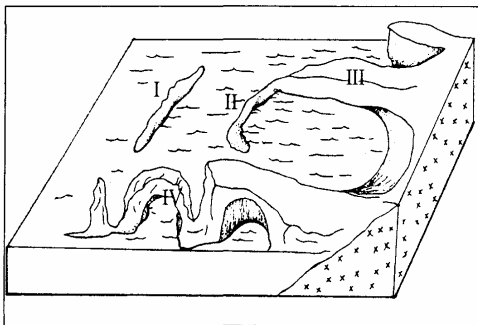
A I, II dan III  
 B I, II dan IV

C I, III dan IV  
 D II, III dan IV

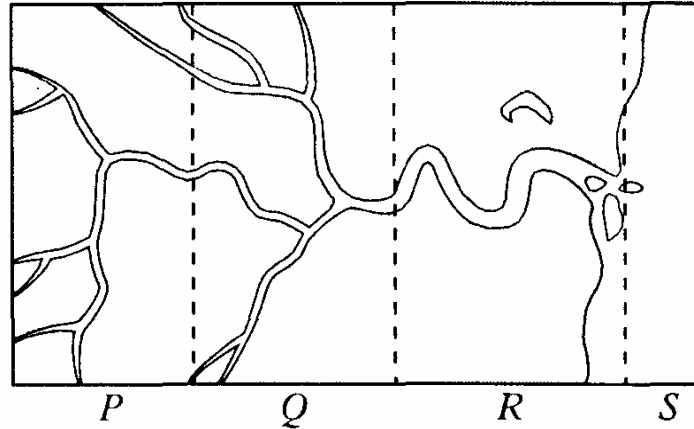


SEMENANJUNG MALAYSIA

7. Banjaran bertanda X merupakan banjaran  
 A Tahan  
 B Crocker  
 C Bintang  
 D Titiwangsa



8. Antara berikut yang manakah merupakan bentuk muka bumi akibat hakisan ombak dalam rajah di atas?  
 A I dan II  
 B I dan IV  
 C II dan III  
 D III dan IV



9. Apakah bentuk muka bumi yang terdapat di peringkat aliran sungai bertanda R?

- I Delta
- II Tasik ladam
- III Likuan sungai
- IV Lurah berbentuk U

- A I dan II
- B I dan IV
- C II dan III
- D II dan IV

- Chendering
- Pulau Pangkor
- Tanjung Dawai

10. Ketiga-tiga kawasan di atas berpotensi sebagai kawasan

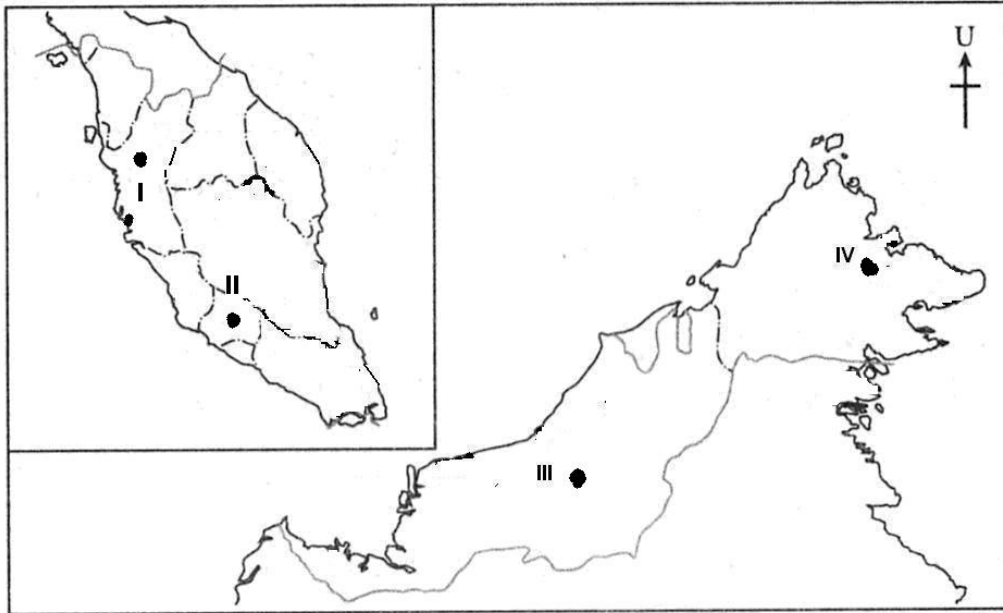
- A pertanian
- B perikanan
- C pelancongan
- D perlombongan



14. Antara berikut yang manakah kesan putaran bumi di atas paksinya?

- I Kejadian pasang surut
- II Pembiasan angin lazim
- III Perubahan empat musim
- IV Siang dan malam tidak sama panjang

- A I, II, dan III
- B I, II, dan IV
- C I, III, dan IV
- D II, III dan IV



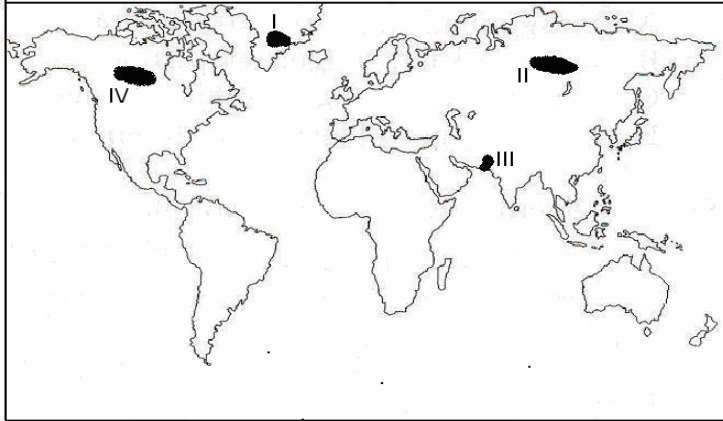
15. Kawasan yang manakah menerima hujan paling banyak di Semenanjung Malaysia?

- A I
- B II
- C III
- D IV

Kawasan	Julat suhu harian
Kuala Pahang	6.4°C
Kuala Lumpur	10°C

16. Kedua-dua kawasan di atas mengalami julat suhu harian yang berbeza kerana dipengaruhi oleh faktor

- A kedudukan
- B ketinggian
- C kepulauan
- D angin monsun

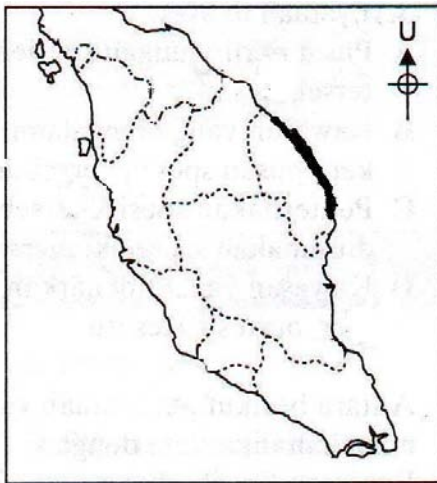


Dunia

- Hujan tahunan adalah rendah
- Julat suhu tahunan besar
- Langit sentiasa tidak berawan

17. Pernyataan di atas dapat dikaitkan dengan kawasan peta bertanda

- |      |       |
|------|-------|
| A I  | C III |
| B II | D IV  |



Semenanjung Malaysia

18. Kegiatan yang manakah dilakukan oleh nelayan di kawasan berlorek dari bulan November hingga Mac?


- |                 |                           |
|-----------------|---------------------------|
| A Menuai padi   | C Menangkap ikan          |
| B Menoreh getah | D Membaiki pukot dan jala |



19. Rajah di atas dapat dikaitkan dengan kejadian
- |              |                          |
|--------------|--------------------------|
| A jerebu     | C pulau haba             |
| B hujan asid | D penipisan lapisan ozon |



20. Kawasan berlorek dalam rajah di atas dapat dikaitkan dengan kejadian
- |              |                          |
|--------------|--------------------------|
| A jerebu     | C kesan rumah hijau      |
| B pulau haba | D penipisan lapisan ozon |



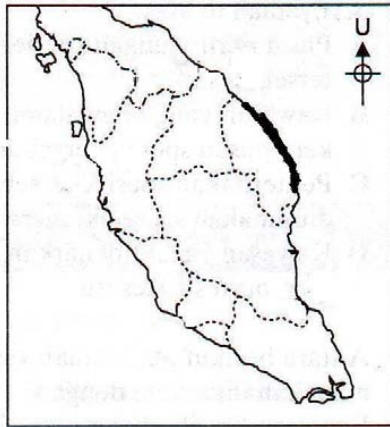
21. Jenis hutan dalam gambarajah di atas terdapat di kawasan
- pantai berpasir
  - pedalaman bersaliran buruk
  - ketinggian kurang 1200 meter
  - ketinggian melebihi 1200 meter

22. Apakah faktor yang mempengaruhi jenis tumbuhan Alpain

- I Saliran
- II Tanah
- III Suhu
- IV Ketinggian

- A. I dan II
- B. I dan IV

- C. II dan III
- D. III dan IV



Semenanjung Malaysia

23. Mengapakah kawasan berlorek dalam peta di atas kurang ditumbuhi oleh hutan paya air masin?

- A. Menerima hujan yang lebat
- B. Kawasan pantai yang terdedah
- C. Hampir dengan kawasan tanah tinggi
- D. Kawasan bertanih pasir

**Kaktus  
Bangkut berduri  
Kurma**

24. Apakah ciri-ciri yang terdapat pada tumbuhan di atas yang membolehkannya tumbuh di gurun

- I. benih berkulit tebal
- II. berakar pendek
- III. tahan kemarau
- IV. daun berbentuk jarum

- A. I, II dan III
- C. I, III dan IV

- B. I, II dan IV
- D. II, III dan IV

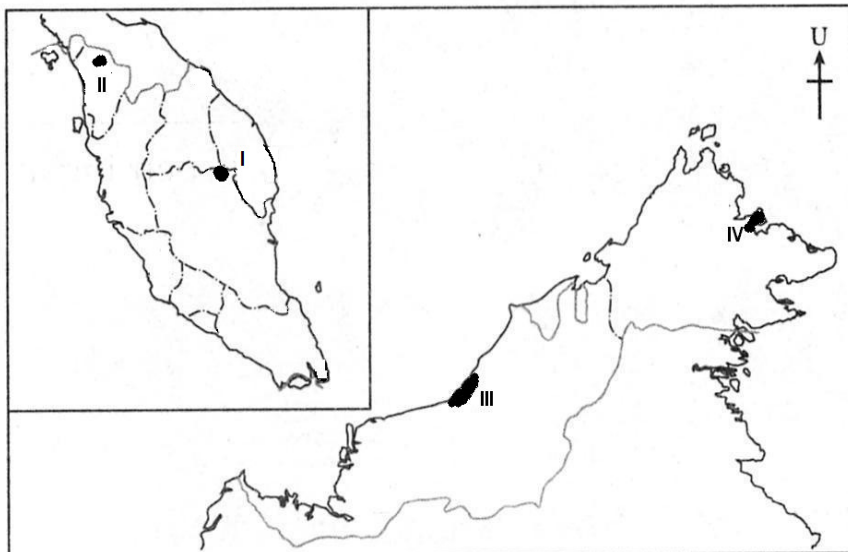
25. Antara berikut, kombinasi manakah yang benar?

	<b>Tumbuhan</b>	<b>Tanah</b>
I	Tapak kuda	Berpasir
II	Meranti	Laterit
III	Kelapa	Berlumpur
IV	Periuk kera	Gambut

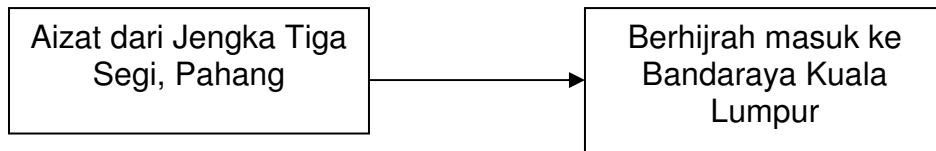
- A. I dan II  
 B. I dan IV  
 C. I dan III  
 D. III dan IV

Hutan paya air masin banyak ditebang kerana nilai ekonominya.

26. Apakah kesan akibat dari aktiviti manusia di atas?  
 A. Banjir lumpur  
 B. Hakisan pantai  
 C. Aras laut meningkat  
 D. Kawasan tadahan terjejas
27. Pembangunan secara tidak terancang di kawasan hutan akan menyebabkan  
 I. banjir lumpur  
 II. hidupan liar pupus  
 III. hidupan liar bertambah  
 IV. hakisan tanah
- A. I, II dan III  
 B. I, II dan IV  
 C. I, III dan IV  
 D. II, III dan IV







33. Merujuk kepada rajah di atas, penghijrahan Aizat dikenali sebagai
- A migran                      C imigran  
 B migrasi                      D imigrasi

34. Antara berikut, pasangan manakah yang **benar**?

Migrasi		
	Faktor Tarikan	Faktor Tolakan
A	Kurang kemudahan asas	Bekerja sebagai petani
B	Pekerja kilang	Kekurangan tanah
C	Bekerja sebagai petani	Kurang kemudahan asas
D	Kekurangan tanah	Pekerja kilang

35. Antara kesan pertanian intensif ialah
- A kejadian banjir kilat  
 B tanah hilang kesuburannya  
 C kawasan pertanian meningkat  
 D kemerosotan hasil pengeluaran

36. Antara berikut, pasangan yang manakah **benar**?

	Kesan negatif penerokaan sumber	Langkah-langkah untuk mengatasinya
I	Banjir lumpur	Membina empangan
II	Suhu meningkat	Menebang pokok
III	Kepupusan flora dan fauna	Amalan silvikultur
IV	Kesuburan tanah merosot	Pertanian bergilir

- A I dan II                      C II dan III  
 B I dan IV                      D III dan IV

37. Antara berikut, ciri sebuah Negara yang mengalami penduduk berlebihan ialah

- I kadar celik huruf yang tinggi  
 II tahap teknologi rendah  
 III pendapatan per kapita rendah  
 IV kadar kelahiran tinggi

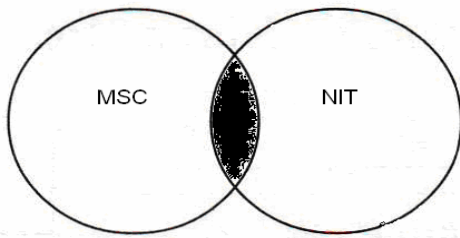
- A I, II dan III                      B I, II dan IV  
 C I, III dan IV                      D II, III dan IV



42. Keperluan pengangkutan keretapi dari Taiping ke Port Weld pada awalnya di kaitkan dengan
- |              |               |
|--------------|---------------|
| A kayu balak | C bijih timah |
| B batu kapur | D getah       |
43. Bandar **X** ialah pertemuan antara jalan keretapi pantai barat dan pantai timur Semenanjung Malaysia. **X** merujuk kepada
- |          |              |
|----------|--------------|
| A Gemas  | C Kluang     |
| B Melaka | D Batu Pahat |



44. Apakah tujuan utama sistem pengangkutan di atas diperkenalkan di Kuala Lumpur?
- Mengurangkan pencemaran udara
  - Mengurangkan kesesakan lalu lintas
  - Menjimatkan penggunaan petroleum
  - Mengurangkan penggunaan kenderaan awam

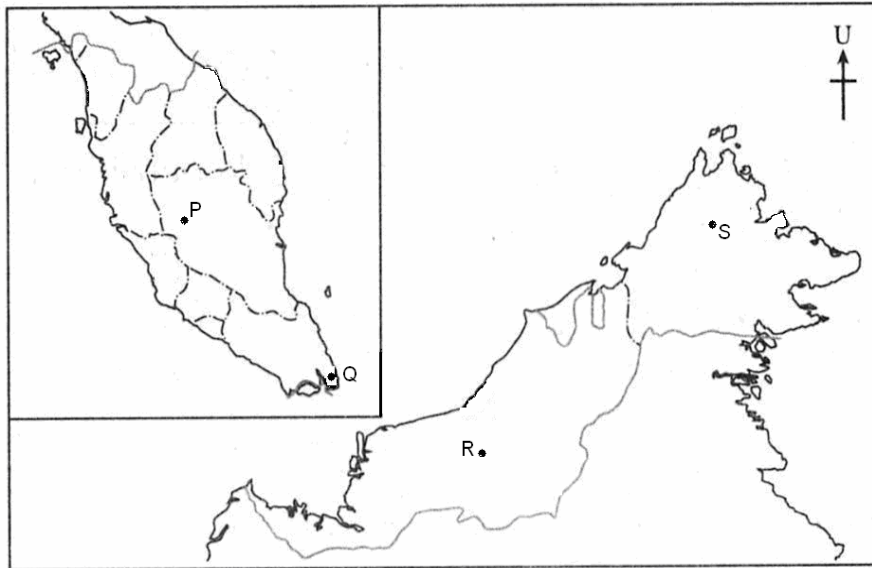


45. Kawasan berlorek dalam rajah di atas merujuk kepada
- Membangunkan teknologi pendidikan
  - Berfungsi sebagai pusat ketenteraan
  - Membantu perkembangan industri pelancongan
  - Pengurusan maklumat melalui teknologi maklumat ICT

- Jaring
- TMNet
- MaxiNet

46. Senarai di atas adalah merujuk kepada

- |                  |                         |
|------------------|-------------------------|
| A jenis telefon  | C sistem pembelajaran   |
| B jenis komputer | D perkhidmatan internet |



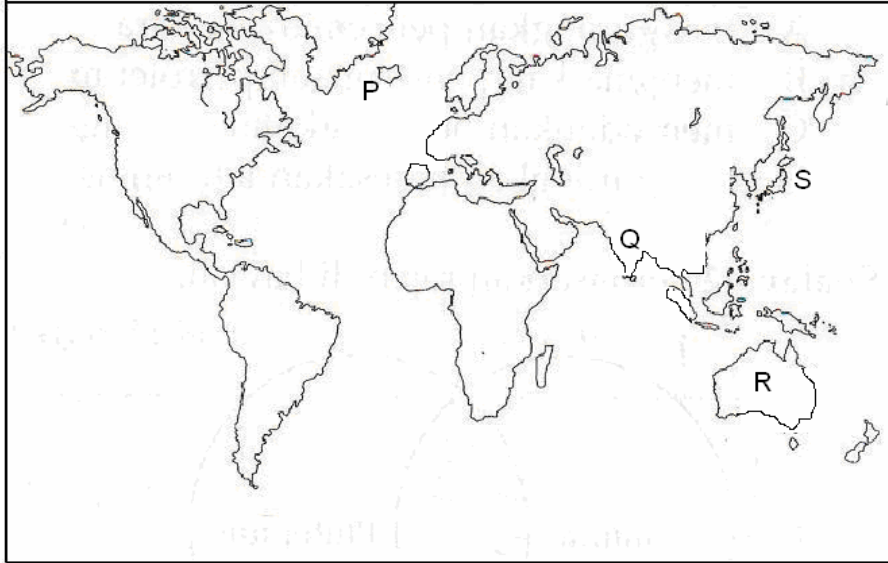
47. Kawasan perlombongan bauksit terletak di kawasan peta yang bertanda

- |     |     |
|-----|-----|
| A P | C R |
| B Q | D S |

48. Antara berikut, yang manakah sumber logam?

- I Bauksit
- II Gas asli
- III Kuprum
- IV Arang batu

- |            |              |
|------------|--------------|
| A I dan II | C II dan III |
| B I dan IV | D III dan IV |



Tenaga suria banyak di jana  
sebagai tenaga alternatif di negara  
ini

49. Pernyataan di atas merujuk kepada negara yang bertanda

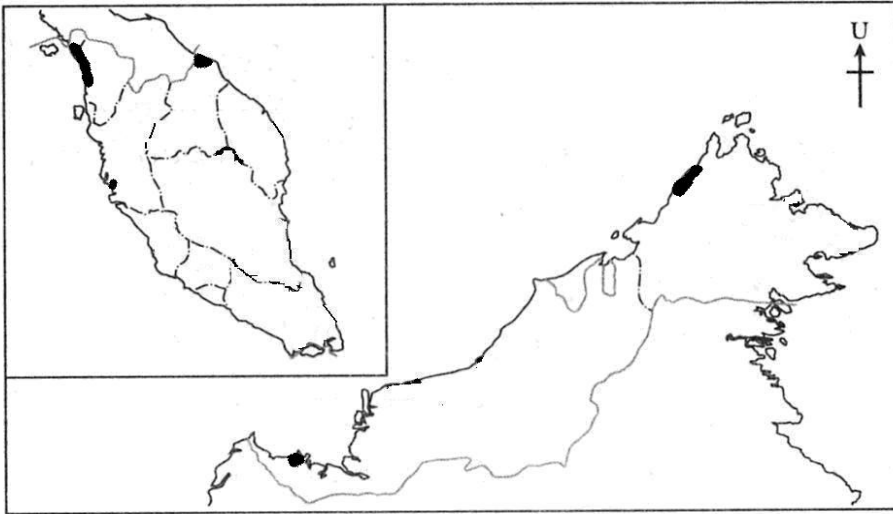
- |   |   |   |   |
|---|---|---|---|
| A | P | C | R |
| B | Q | D | S |



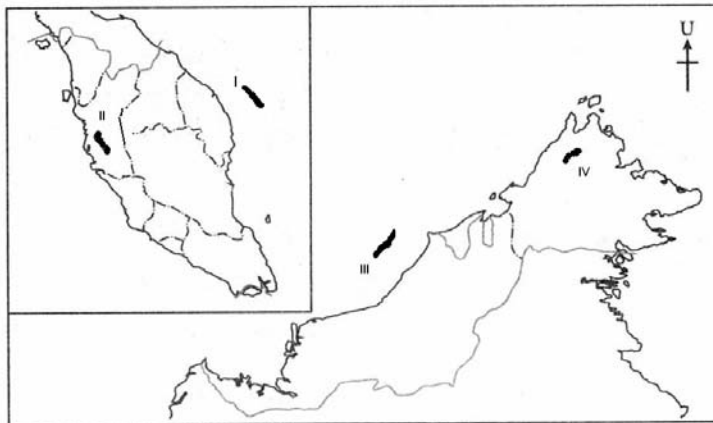
50. Antara berikut, manakah kesan tindakan manusia seperti yang digambarkan dalam rajah di atas

- A hujan turun lebat
- B suhu udara meningkat
- C angin bertiup perlahan
- D lapisan humus bertambah



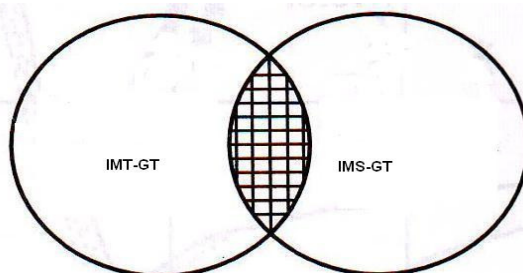


- 54 Kawasan berlorek dalam peta di atas dikaitkan dengan tanaman
- |   |       |   |              |
|---|-------|---|--------------|
| A | padi  | C | tebu         |
| B | getah | D | kelapa sawit |
- 55 Antara yang berikut, manakah usaha kerajaan untuk memajukan sektor perindustrian di Malaysia
- I Memberikan taraf perintis
  - II Meningkatkan kemudahan infrastruktur
  - III Mewujudkan zon perindustrian bebas
  - IV Menggalakkan kemasukan barangan import
- |   |               |   |                |
|---|---------------|---|----------------|
| A | I, II dan III | C | I, III dan IV  |
| B | I, II dan IV  | D | II, III dan IV |



- |  |
|--|
| <ul style="list-style-type: none"> <li>• cat</li> <li>• plastik</li> <li>• baja kimia</li> </ul> |
|--|





- 60 Berdasarkan rajah di atas, apakah jenis kerjasama ekonomi antara bangsa dijalankan oleh kerajaan Malaysia
- A Kerjasama Serantau
  - B Kerjasama Dua Hala
  - C Kerjasama Pelbagai Hala
  - D Segi Tiga Pertumbuhan

**KERTAS SOALAN TAMAT**