

23/1
Geografi
Kertas 1
Ogos
2009
1¼ Jam

PEPERIKSAAN PERCUBAAN
PENILAIAN MENENGAH RENDAH
NEGERI PERAK
2009

GEOGRAFI

KERTAS 1

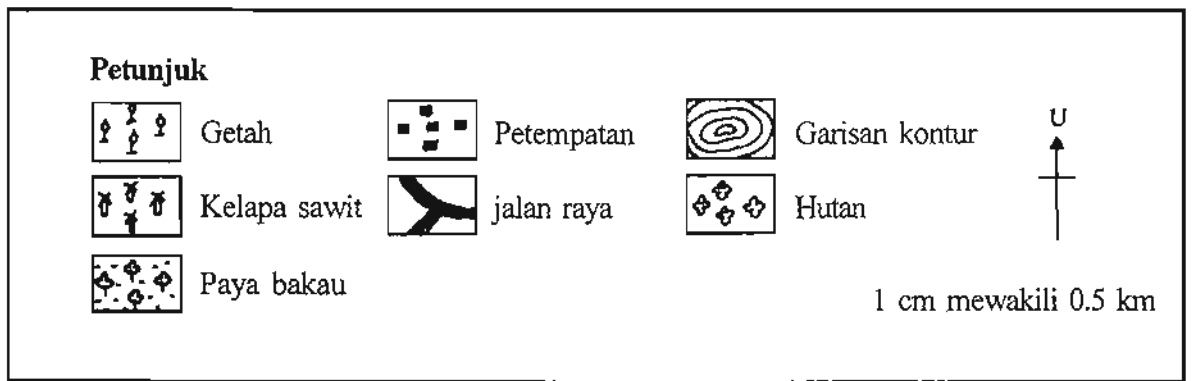
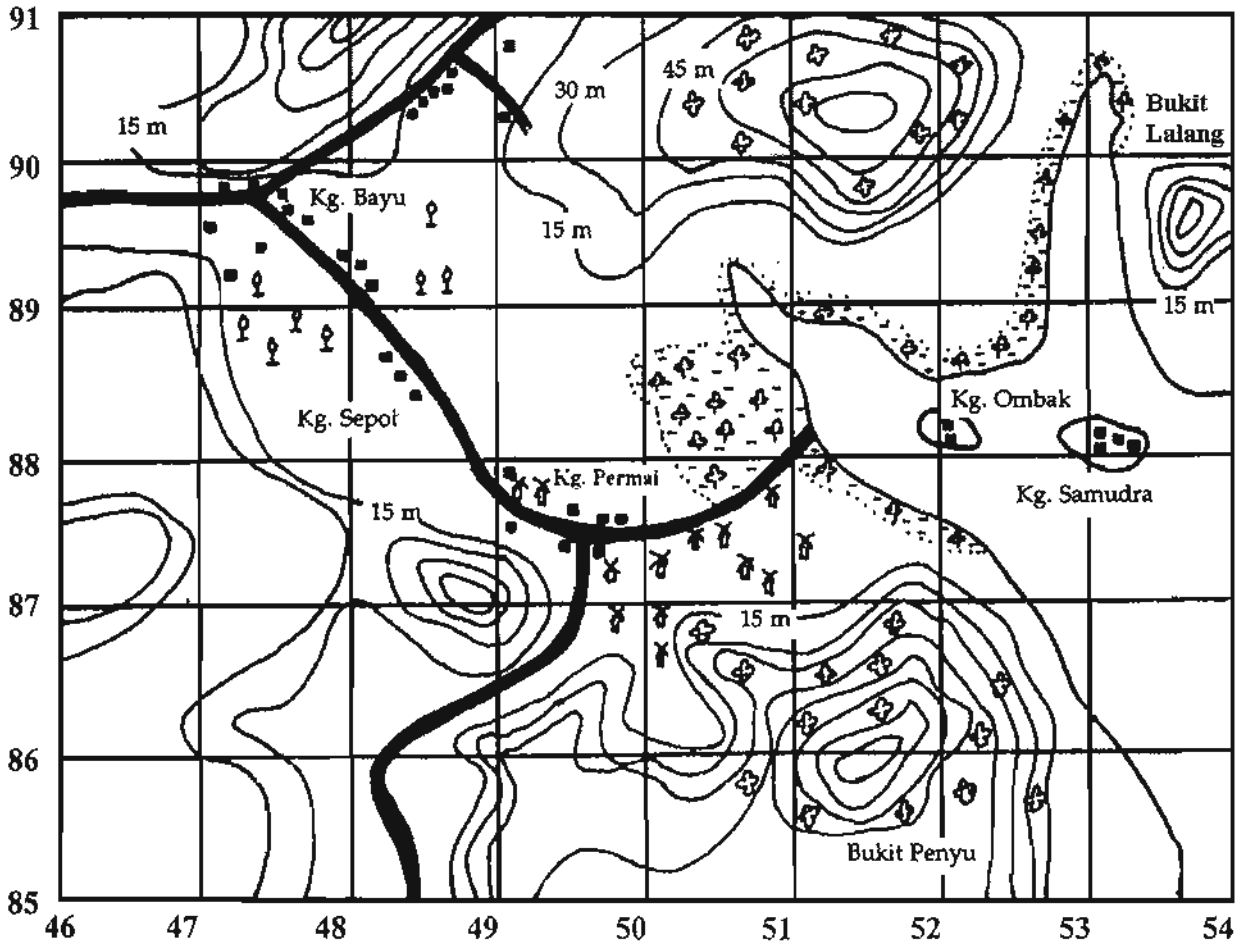
Satu jam lima belas minit

JANGAN BUKA KERTAS SOALAN INI SEHINGGA DIBERITAHU

1. *Kertas soalan ini mengandungi 60 soalan.*
2. *Jawab semua soalan.*
3. *Tiap-tiap soalan diikuti oleh empat pilihan jawapan, iaitu A, B, C dan D. Bagi setiap soalan, pilih satu jawapan sahaja. Hitamkan jawapan anda pada kertas jawapan objektif yang disediakan.*
4. *Jika anda hendak menukar jawapan, padamkan tanda yang telah dibuat. Kemudian hitamkan jawapan yang baru.*
5. *Anda dibenarkan menggunakan alat geometri.*
6. *Anda dibenarkan menggunakan kalkulator yang tidak boleh diprogramkan.*

Kertas soalan ini mengandungi 16 halaman bercetak.

Soalan 1 hingga Soalan 6 berdasarkan peta topo di bawah.

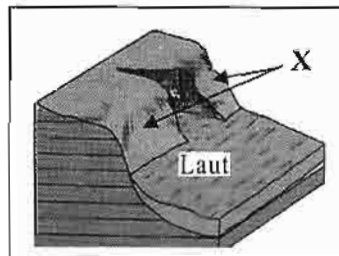


10. Banjaran Tahan dalam peta 1 bertanda



Peta 1: SEMENANJUNG MALAYSIA

11. Apakah bentuk muka bumi X dalam gambar rajah 1 di bawah ?



Gambar rajah 1

- A Tanjung
- B Tetanjung
- C Teluk
- D Tebing tinggi

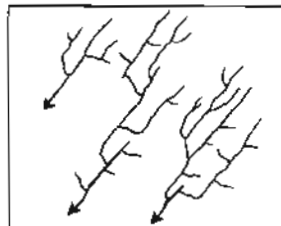
12. Pusat pelancongan yang manakah terdapat di kawasan berlorek dalam peta 2 ?



Peta 2 : SEMENANJUNG MALAYSIA

- A Bukit Larut
- B Bukit Fraser
- C Gunung Jerai
- D Gunung Ledang

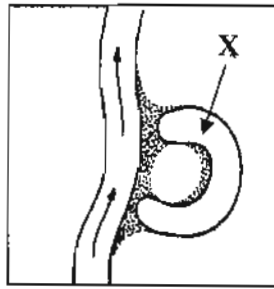
13. Gambar rajah 2 menunjukkan satu pola saliran.



Gambar rajah 2

Apakah pola saliran itu ?

- A Jejala
- B Jejari
- C Selari
- D Reranting



Gambar rajah 3

14. Apakah bentuk muka bumi X dalam gambar rajah 3 ?
- A Tetambak
B Likuan sungai
C Tasik ladam
D Dataran mendap
15. Bentuk muka bumi yang berkaitan dengan hakisan ombak ialah
- I gerbang laut
II delta
III tombolo
IV batu tunggul
- A I dan II
B I dan IV
C II dan III
D III dan IV

- Banjaran Titiwangsa
- Banjaran Crocker
- Banjaran Iran

16. Banjaran di atas berperanan sebagai
- A sempadan negeri
B kawasan tadahan
C kawasan pertanian
D kawasan perlombongan
17. Bentuk fizikal X, Y dan Z dalam peta 3 telah dimajukan untuk sektor



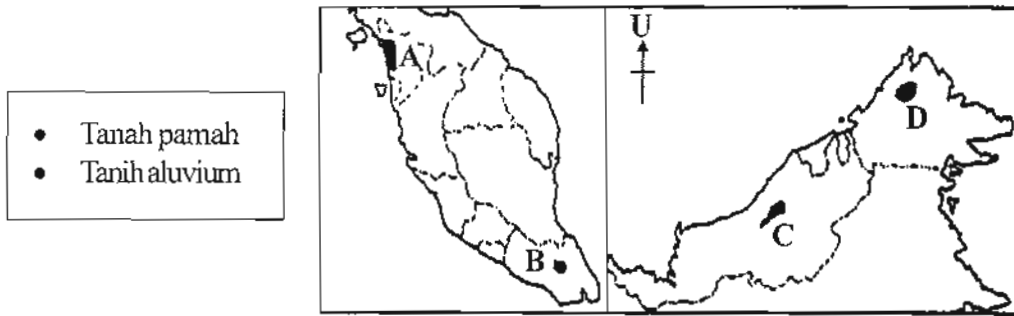
Peta 3 : SEMENANJUNG MALAYSIA

- I Pembalakan
II Pertanian
III Pelancongan
IV Perikanan

- A I dan II
B I dan IV

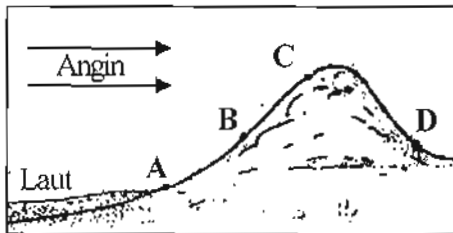
- C II dan III
D III dan IV

18. Maklumat di bawah terdapat dalam peta 4 yang bertanda



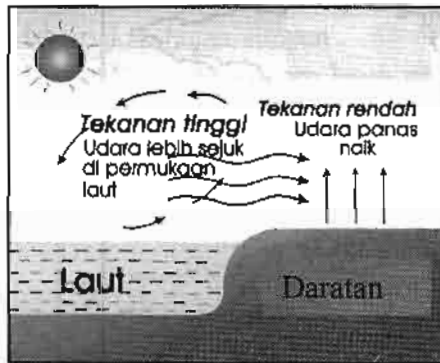
Peta 4 : MALAYSIA

19. Kawasan yang manakah hujan paling sedikit dalam gambar rajah 4 ?



Gambar rajah 4

20. Gambar rajah 5 menunjukkan kejadian



Gambar rajah 5

- A bayu laut
- B bayu darat
- C monsun timur laut
- D monsun barat daya

21. Maklumat di bawah menerangkan keadaan kawasan yang mengalami iklim jenis

- Julat suhu harian besar
- Hujan tahunan kurang 250 mm
- Masyarakat nomad

- A Tundra
- B Khatulistiwa
- C Gurun panas
- D Mediterranean

22. Apakah punca penyakit di bawah ?

- Katarak mata
- Barah kulit
- Sistem pelalian badan lemah

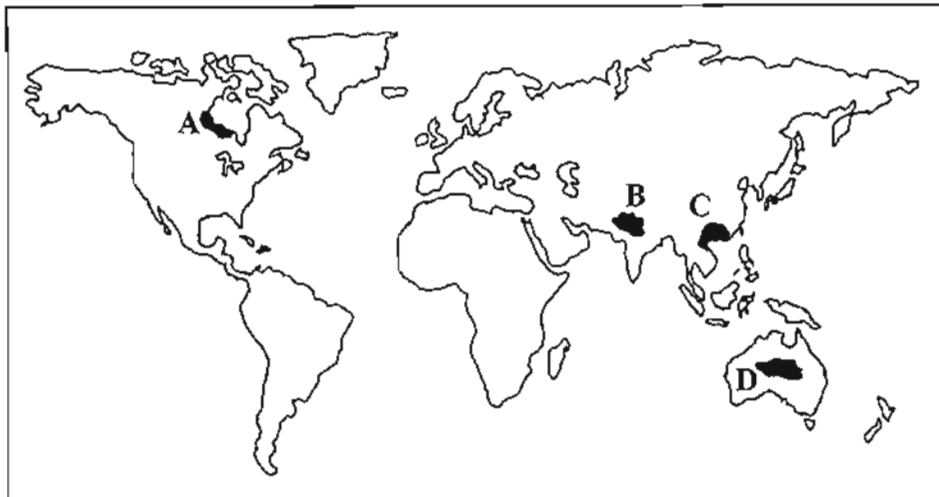
- A Pulau haba
 B Hujan asid
 C Kesan rumah hijau
 D Penipisan lapisan ozon

23. Antara berikut, yang manakah benar tentang peredaran bumi mengelilingi matahari ?

- I Kejadian empat musim
 II Kejadian siang dan malam
 III Kejadian biasan angin lazim
 IV Siang dan malam tidak sama panjang
- A I dan II
 B I dan IV
 C II dan III
 D III dan IV

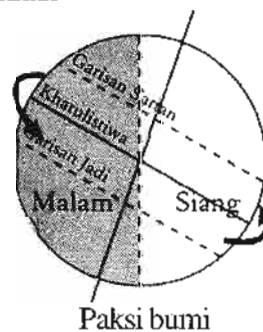
24. Maklumat di bawah merujuk kawasan dalam peta 5 yang bertanda

- Penduduk jarang
- Cuaca sangat sejuk
- Pembalakan



Peta 5 : DUNIA

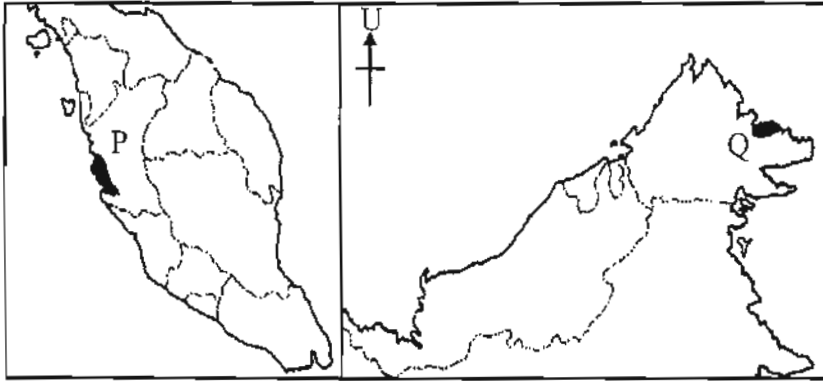
25. Gambar rajah 6 menunjukkan



Gambar Rajah 6

- A pergerakan bumi
 B peredaran bumi
 C putaran bumi
 D planet bumi

26. Apakah jenis tumbuhan semula jadi yang terdapat di kawasan bertanda P dan Q dalam peta 6 ?



Peta 6 : MALAYSIA

- | | |
|------------------------|------------------|
| A Hutan paya bakau | C Hutan pantai |
| B Hutan paya air tawar | D Hutan sekunder |
27. Apakah ciri tumbuhan semula jadi di kawasan gurun ?
- | | |
|-----------------|------------------------|
| A Berdaun lebar | C Lapisan kanopi |
| B Berdaun keras | D Tumbuhan bawah padat |
28. Apakah usaha pemuliharaan sumber hutan di Malaysia ?
- | |
|---|
| A Kempen kesedaran |
| B Penghutan semula |
| C Mewartakan hutan simpan |
| D Menghadkan pengeluaran lesen pembalakan |
29. Apakah ciri tumbuhan semula jadi di kawasan berlorek dalam peta 7 ?

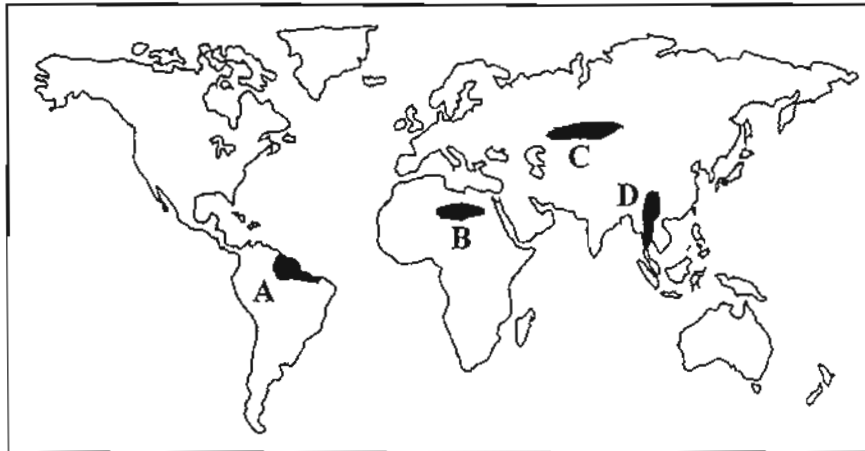


Peta 7 : DUNIA

- | | |
|-----------------|------------------|
| A Berakar banir | C Dirian tulen |
| B Berdaun lebar | D Tumbuhan liana |

30. Jenis pokok berikut terdapat di kawasan dalam peta 8 yang bertanda

- Meranti
- Keruing
- Cengal



Peta 8 : DUNIA

31. Kombinasi yang manakah benar tentang jenis pokok dan jenis tanah?

	Jenis pokok	Jenis tanah
I	Cengal	Laterit
II	Tapak kuda	Gambut
III	Periuk kaca	Berlumpur
IV	Ru	Berpasir

- A I dan II
- B I dan IV
- C II dan III
- D III dan IV

32. Antara berikut yang manakah terdapat di kawasan beriklim Mediterranean ?

- A Rafflesia
- B Willow
- C Orkid
- D Lavender

33. Gambar rajah 7 menunjukkan tumbuhan semula jadi



Gambar rajah 7

Apakah jenis hutan tersebut ?

- A Hutan gunung
- B Hutan monsun tropika
- C Hutan paya
- D Hutan konifer

34. Faktor governan yang mempengaruhi kadar kelahiran ialah

- A perkahwinan
 B taraf hidup
 C budaya masyarakat
 D penubuhan LPPKN

- Penduduk padat
- Pusat pengangkutan dan perhubungan
- Sektor utama perindustrian dan perdagangan

35. Maklumat di atas dapat dikaitkan dengan

- A Delta Rajang
 B Delta Kelantan
 C Dataran Kedah
 D Lembah Klang

36. Kombinasi yang manakah benar tentang migrasi luar bandar ke bandar ?

	Tolakan	Tarikan
A	Pengangguran	Taraf hidup rendah
B	Peluang pekerjaan banyak	Taraf hidup tinggi
C	Peluang pekerjaan kurang	Pendapatan lumayan
D	Peluang pendidikan luas	Pendapatan tidak tetap

37. Apakah ciri negara penduduk berlebihan ?

- A Kadar kelahiran rendah
 B Kadar kemiskinan tinggi
 C Kadar kenal huruf tinggi
 D Kemudahan kesihatan baik

38. Apakah faktor yang mempengaruhi perubahan penduduk seperti dalam jadual 1 ?

Tahun	Jumlah Penduduk (Juta)
1990	20.1
1995	20.5
2000	23.2
2005	26.0

Jadual 1: Jumlah Penduduk Malaysia 1990 hingga 2005

- I Kadar kelahiran meningkat
 II Kadar kematian meningkat
 III Emigrasi meningkat
 IV Imigrasi meningkat

- A I dan II
 B I dan IV
 C II dan III
 D III dan IV

39. Antara berikut kombinasi yang manakah benar ?

	Bandar	Fungsi
A	Bangi	Pendidikan
B	Sintok	Perkilangan
C	Sepang	Pendidikan
D	Ranau	Perkilangan

40. Antara berikut, yang manakah merupakan petempatan awal di Malaysia ?

- I Gua Cha
- II Gua Niah
- III Gua Kelam
- IV Gua Tempurung

- A I dan II
- B I dan IV

- C II dan III
- D III dan IV

41. Merujuk peta 9, petempatan tamadun awal di dunia bertanda



Peta 9 : DUNIA

42. Zaman Darurat di Malaysia telah mewujudkan

- A petempatan tradisional
- B petempatan kampung baru

- C petempatan ladang
- D petempatan FELDA

43. Apakah pola petempatan di kawasan berikut ?

- Tanah Rancangan
- Ladang

- A Berjajar
- B Berpusat

- C Berselerak
- D Berkelompok

44. Antara berikut, yang manakah fungsi petempatan desa di Malaysia?

- I Pusat pertanian
- II Pusat perikanan
- III Pusat pentadbiran
- IV Pusat perhubungan

- A I dan II
- B I dan IV

- C II dan III
- D III dan IV

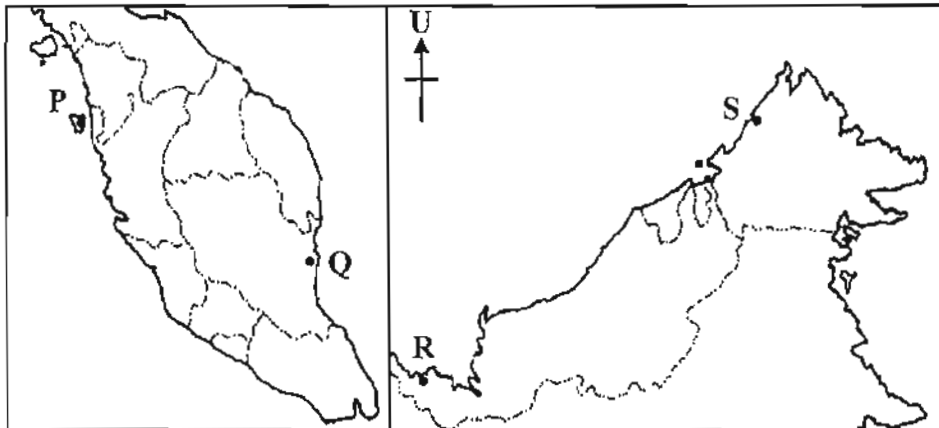
45. Antara berikut negara manakah yang menggunakan binatang untuk menarik kayu balak ke sungai?

- I Myanmar
- II Malaysia
- III Vietnam
- IV Thailand

- A I dan II
- B I dan IV

- C II dan III
- D III dan IV

46. Pelabuhan awal yang terdapat dalam peta 10 bertanda



Peta 10 : MALAYSIA

- A P, Q dan R
- B P, Q dan S

- C P, R dan S
- D Q, R dan S

47. Pernyataan berikut dapat dikaitkan dengan

- Perkhidmatan pendidikan secara jarak jauh
- Mengakses maklumat melalui internet

- A e-Kerajaan
- B e-Learning

- C e-Sidang
- D e-Village

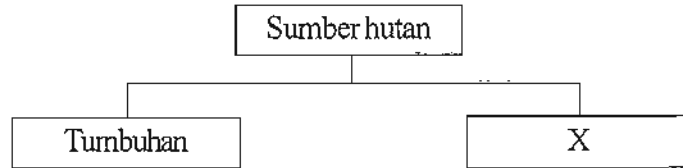
48. Apakah tujuan pembinaan lebuh raya di bawah ?

- Lebuh raya Sungai Besi
- Lebuh raya Damansara-Puchong
- Lebuh raya Ekspres Shah Alam

- A Selamat sampai ke destinasi
- B Mengangkut banyak barangan

- C Mengurangkan kesesakan lalu lintas
- D Mengurangkan kos pengangkutan

49. X dalam rajah di bawah penting untuk

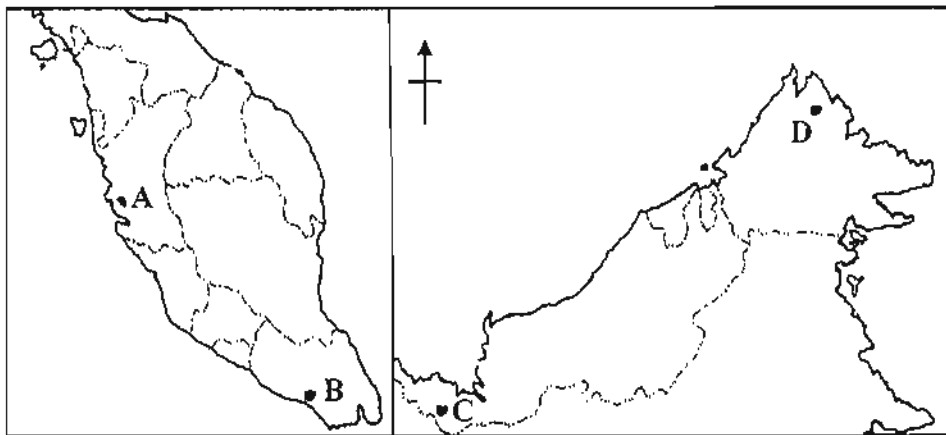


- I bahan api
- II bahan binaan
- III makanan
- IV mengimbangi ekosistem

- A I dan II
- B I dan IV

- C II dan III
- D III dan IV

50. Merujuk peta 11, emas dilombong di kawasan yang bertanda



Peta 11 : MALAYSIA

51. Pernyataan di bawah merujuk kepada

Terdapat di kawasan berlumpur di sekitar muara sungai, kawasan pinggir pantai dan tasik.

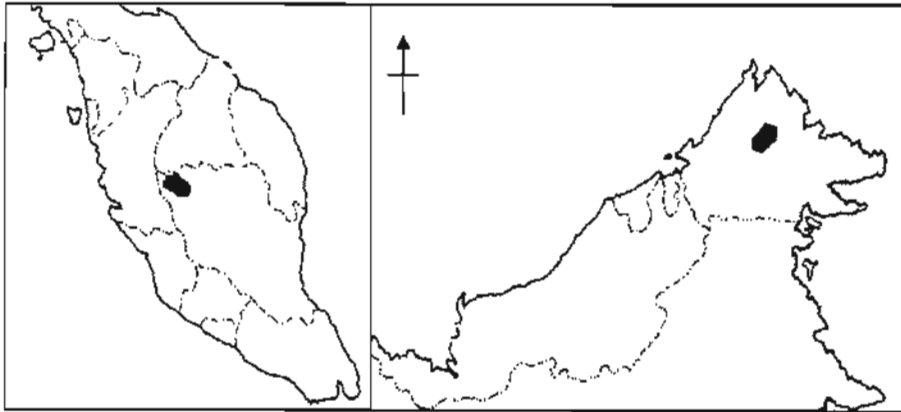
- A hutan paya
- B hutan pantai
- C hutan gunung
- D hutan hujan tropika

52. Maklumat di bawah merujuk kepada sumber tenaga

- Mudah disalurkan
- Tidak mencemarkan udara

- A nuklear
- B arang batu
- C kuasa hidroelektrik
- D petroleum dan gas asli

53. Jenis tanaman yang terdapat di kawasan berlorek dalam peta 12 ialah



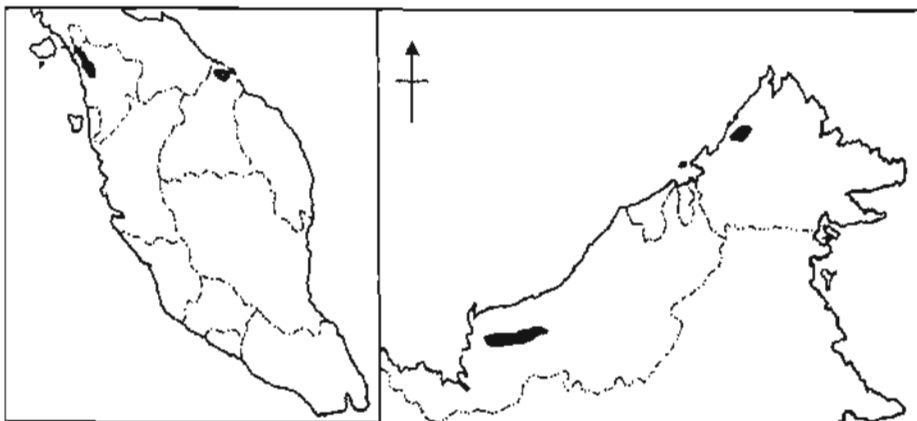
Peta 12 : MALAYSIA

- I teh
- II getah
- III kelapa sawit
- IV sayuran dan bunga-bunga

- A I dan II
- B I dan IV

- C II dan III
- D III dan IV

54. Apakah jenis tanah yang mempengaruhi tanaman di kawasan berlorek dalam peta 13 di bawah ?



Peta 13 : MALAYSIA

- A pasir
- B laterit

- C gambut
- D aluvium

55. Antara berikut, fungsi agensi di bawah ialah

- MARDI
- RRIM
- MPOB

- I kredit
- II pasaran
- III penyelidikan
- IV khidmat sokongan

- A I dan II
- B I dan IV

- C II dan III
- D III dan IV

56. Kegiatan ekonomi di lokasi berikut ialah

- Mukah
- Tumpat
- Pulau Pangkor

- A perikanan
B pembalakan
C pelancongan
D perlombongan

57. Maklumat di bawah, berkaitan dengan perikanan

- Kurang 32 km
- Pukat tarik
- Ketam

- A air tawar
B laut dalam
C akuakultur
D pinggir laut

58. Apakah jenis industri yang dijalankan di kawasan berikut ?

- Olak Lempit
- Pagoh
- Sandakan

- A Industri berasaskan kayu
B Industri berasaskan getah
C Industri berasaskan makanan
D Industri berasaskan kelapa

59. Maklumat di bawah berkaitan dengan

- Gua batu kapur
- Pantai berpasir dan bersih
- Air yang jernih
- Hutan yang menghijau

- A agropelancongan
B ekopelancongan
C pelancongan kesihatan
D pelancongan budaya dan warisan

60. Kombinasi yang manakah benar tentang lokasi dan produk ?

	Lokasi	Produk
A	Shah Alam	Perabot kayu
B	Miri	Automatif
C	Sandakan	Getah tiruan
D	Bayan Lepas	Penyaman udara

KERTAS SOALAN TAMAT